

## 客語初級認證：看圖說話

1

照這張課表，  
拜幾做得上電  
腦課？上幾多  
節課？

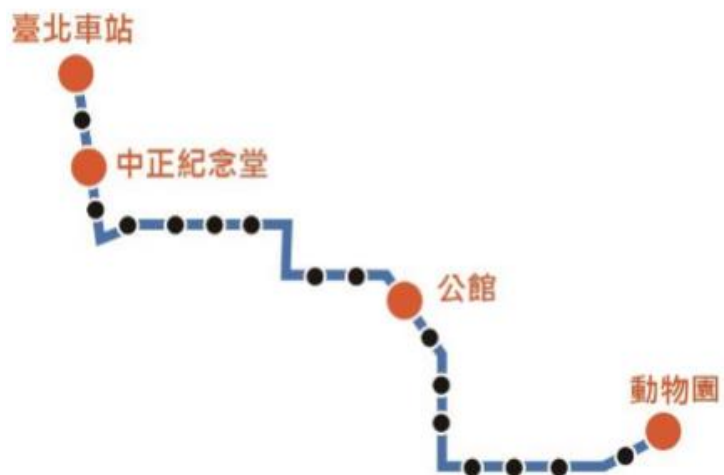
節次	時間	星期一	星期二	星期三	星期四	星期五
第一節	8:10-9:00	國語	英文	自然	數學	自然
第二節	9:10-10:00	英文	國語	綜合	綜合	英文
第三節	10:10-11:00	自然	數學	國語	英文	英文
第四節	11:10-12:00	自然	數學	數學	國語	本土語言 (客家語、 閩南語、 原住民語)
第五節	12:00-13:10	午餐、午休				
第六節	13:10-14:00	藝術	藝術	社團	音樂	數學
第七節	14:10-15:00	電腦	社會	社團	健康	藝術
第八節	15:10-16:00	電腦	社會	藝術	體育	藝術

答：拜一下晝做得上二節電腦課。

## 聯營公車 101 台北車站-動物園

2

照這張圖，阿  
華在臺北車站  
坐公車去寮，  
會經過哪兜車  
站？最尾會到  
哪站？



答：會經過中正紀念堂、公館，最尾到動物園。

3

這張圖裡肚(裡背)，桌頂有麼个東西？桌下个東西又係仰仔个？



答：桌頂有二本書，桌下有一隻貓仔，一雙紅色个高睜鞋。

4

照這張博愛座个圖片，請你說明一下：應該愛讓分哪兜人先坐呢？

博愛座 Priority Seat



請優先讓位給  
老人、孕婦、行動不便及抱小孩的乘客

答：應該愛先讓老人家、攞大肚、腳著傷、搵細人仔个人先坐。

5

照這張課表，  
哪日个第幾多  
節課做得學客  
家話？

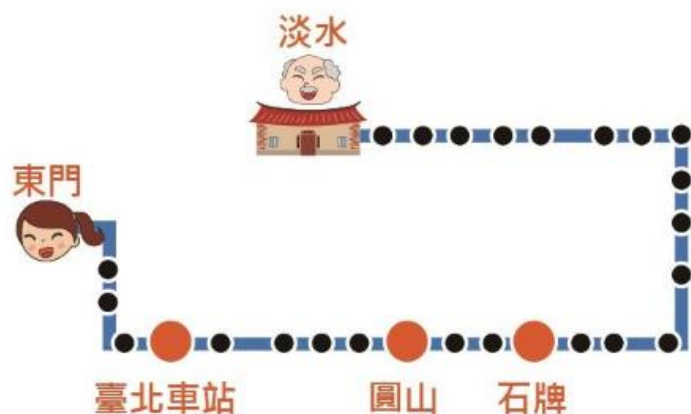
節次	時間	星期一	星期二	星期三	星期四	星期五
第一節	8:10-9:00	國語	英文	自然	數學	自然
第二節	9:10-10:00	英文	國語	綜合	綜合	英文
第三節	10:10-11:00	自然	數學	國語	英文	英文
第四節	11:10-12:00	自然	數學	數學	國語	本土語言 (客家語、 閩南語、 原住民語)
第五節	12:00-13:10	午餐、午休				
第六節	13:10-14:00	藝術	藝術	社團	音樂	數學
第七節	14:10-15:00	電腦	社會	社團	健康	藝術
第八節	15:10-16:00	電腦	社會	藝術	體育	藝術

答：拜五朝晨第四節做得學客家語。

6

阿華愛坐 101  
號公車去淡水  
阿公屋下寮，  
照這張圖，在  
東門上車後會  
先到哪站？再  
經過哪兜車站  
正會到呢？

## 聯營公車 101 東門-淡水



答：會先到臺北車站，再經過圓山、石牌，正會到淡水。

7

鐵人三項有泅水仔、騎自行車、走。請你紹介一下佢兜係仰仔進行个？



答：先泅水4百公尺，再騎腳踏車10公里，最尾走相逐2點5公里。

8

路項有這三隻（個）標誌，請你講出愛注意哪兜事情。



答：愛注意細人仔、愛過慢兜仔、愛注意腳踏車。

9

在這張亞洲地圖裡背，臺灣附近有哪兜國家呢？請講出一隻（個）北片析、兩隻（個）南片析國家个名。



答：臺灣个北片析有韓國，南片有菲律賓、印尼。

10

照這張課表，幾多點開始寮當晝、食飯？寮到幾時？

節次	時間	星期一	星期二	星期三	星期四	星期五
第一節	8:10-9:00	國語	英文	自然	數學	自然
第二節	9:10-10:00	英文	國語	綜合	綜合	英文
第三節	10:10-11:00	自然	數學	國語	英文	英文
第四節	11:10-12:00	自然	數學	數學	國語	本土語言 (客家語、 閩南語、 原住民語)
第五節	12:00-13:10	午餐、午休				
第六節	13:10-14:00	藝術	藝術	社團	音樂	數學
第七節	14:10-15:00	電腦	社會	社團	健康	藝術
第八節	15:10-16:00	電腦	社會	藝術	體育	藝術

答：對 12 點開始寮當晝、食飯，寮到下晝 1 點 10 分。

11

你看着賊仔揸東西拚等走！請你形容該賊仔係麼个樣仔分警察聽，好遽啊同佢捉起來。



答：該賊仔生到瘦瘦、光頭、戴嘴揸仔、著白色背心、烏色短褲、紅鞋。

12

路項有這三隻（個）禁止標誌，請你講出有哪兜事情做毋得做。



禁止左轉



禁止停車



禁止行人通行

答：做毋得左轉、做毋得停車仔、做毋得行人。

**信義國小  
校慶園遊會**

日期：105 / 12 / 18  
 時間：上午9:00 ~ 下午4:00  
 地點：信義國小運動場  
 活動內容：唱歌比賽、拔河、賽跑、義賣  
 歡迎老嫩大細共下來鬥鬧熱！  
 聯絡電話：(02)9958-3762 張先生

13

這張公告係通知  
 麼个活動？在麼  
 个所在舉辦？

答：這張廣告係通知校慶園遊會，在信義國小舉辦。

14

在這張亞洲地圖裡背，請你  
 講出臺灣个人口有幾多？同  
 新加坡人口比起來係仰仔？



答：臺灣人口有 2 千 3 百 萬 人，比新加坡个 5 百 萬 人 過 多。

15

這圖裡肚，細妹仔手項拿等麼个東西？準備愛做麼个？



答：細妹仔手項拿等掃把同報紙，準備愛掃狗屎。

16

這張圖係提醒考生愛注意哪兜事情？請你解說分考生聽。



**禁止飲食**



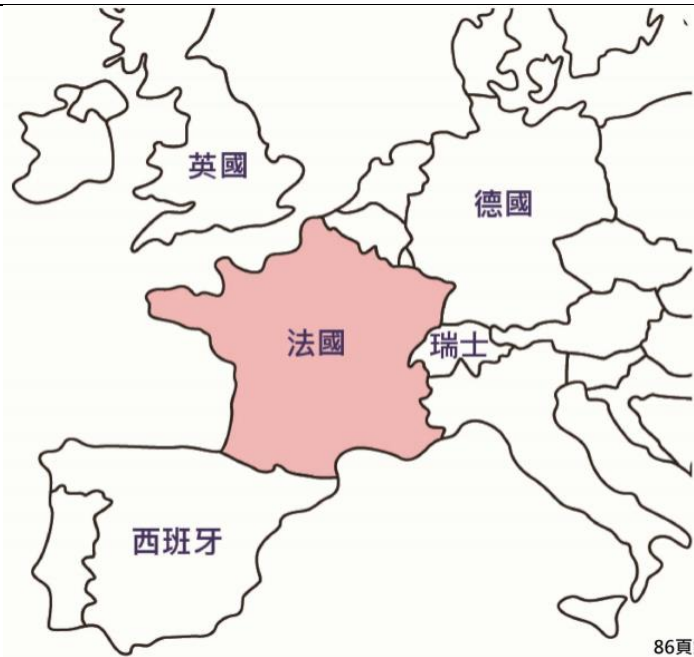
**禁用  
行動電話  
電子手錶**

答：提醒考生做毋得食東西，做毋得用手机仔同電子手錶仔。



17

照這張歐洲地圖，請講出同法國陸地連共下个、同無連共下个國家各一隻（個）。



答：同法國連共下个有德國，無連共下个有英國。

18

照這張課表，拜二朝晨有麼个課程？各有幾多節？

節次	時間	星期一	星期二	星期三	星期四	星期五
第一節	8:10-9:00	國語	英文	自然	數學	自然
第二節	9:10-10:00	英文	國語	綜合	綜合	英文
第三節	10:10-11:00	自然	數學	國語	英文	英文
第四節	11:10-12:00	自然	數學	數學	國語	本土語言 (客家語、 閩南語、 原住民語)
第五節	12:00-13:10	午餐、午休				
第六節	13:10-14:00	藝術	藝術	社團	音樂	數學
第七節	14:10-15:00	電腦	社會	社團	健康	藝術
第八節	15:10-16:00	電腦	社會	藝術	體育	藝術

答：拜二朝晨有一節英文、一節國語、二節數學。

19


這張廣告單係講哪久有麼个活動？



答：七月半個活動，對舊曆七月初一到十五，餅仔同汽水買一送一。

20

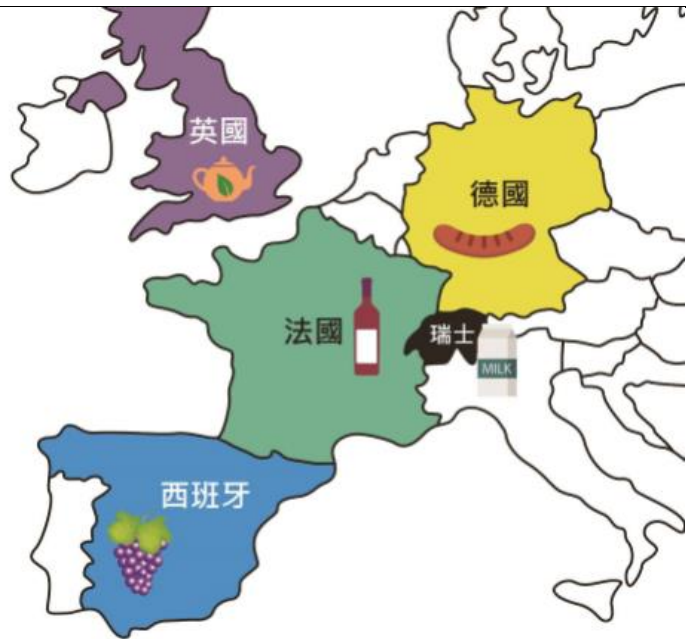
這張圖係視力檢查表，請你講出最頂高該排三隻(個)圖各係麼个色？缺口向哪片？



答：左片係紅色缺口向右片，中央係青色缺口向頂高，右片係烏色缺口向左片。

21

照這張歐洲地圖，你好食哪兜國家個麼個東西？



答：佢好食法國個葡萄酒，英國個紅茶，德國個灌腸，西班牙個葡萄。

22

照這張公告，園遊會係麼個日期舉辦？到幾多點結束？

**信義國小  
校慶園遊會**

日期：105 / 12 / 18  
時間：上午9:00 ~ 下午4:00  
地點：信義國小運動場  
活動內容：唱歌比賽、拔河、賽跑、義賣  
歡迎老嫩大細共下來鬥鬧熱！  
聯絡電話：(02)9958-3762 張先生

答：園遊會在105年12月18號，對朝晨9點到下晝4點結束。

23

照這張廣告，麼个東西盡（最）貴？賣幾多錢？麼个東西盡（最）便宜？賣幾多錢？



答：電腦最貴賣 2 萬個銀，翕相機最便宜賣 5 千 9 百 9 拾個銀。

24

這張圖裡肚，箱仔裡背同外背有哪兜東西？係麼个色个？



答：箱仔裡背有一隻烏狗仔、一隻白狗仔。外背有三粒球仔，係青色、紅色同黃色。

25

照這張公告，係愛了解園遊會个詳細情形，做得打哪隻（支）電話號碼？尋麼人問？



信義國小  
校慶園遊會

日期：105 / 12 / 18  
時間：上午9:00 ~ 下午4:00  
地點：信義國小運動場  
活動內容：唱歌比賽、拔河、賽跑、義賣  
歡迎老嫩大細共下來鬥鬧熱！  
聯絡電話：(02)9958-3762 張先生

答：做得打(02)9958-3762 這支電話，尋張先生。

26

照這張火車路線圖，阿華愛對屏東去雲林尋朋友，愛坐哪隻（個）方向个火車？先、後會經過哪三隻（個）大站？



答：愛坐向北个火車，會經過高雄、台南、嘉義三個大站。

27

請你講看啊，  
下背兩張圖有  
麼个無共樣  
呢？比論講色  
目、樣式、數  
量等等。



答：左片係三個紅色个圓圈仔，右片係二個青色个四角形。

28

照這張圖，除  
忒（核）擤鼻涕  
過後，還有哪  
兜時節愛洗手，  
正毋會分流感  
滯着？

## 防範流感 請勤洗手



行政院衛生署 關心您 | 疫情通報及諮詢專線：☎1922 <http://www.doh.gov.tw>

答：食東西之前、上便廁所過後、同嬰兒仔搞進前愛洗手。

29

這擺園遊會，力頭異（盡）大个人做得參加麼个比賽？盡會唱山歌个人做得參加麼个比賽？



信義國小  
校慶園遊會

日期：105 / 12 / 18  
時間：上午9:00 ~ 下午4:00  
地點：信義國小運動場  
活動內容：唱歌比賽、拔河、賽跑、義賣  
歡迎老嫩大細共下來門鬧熱！  
聯絡電話：(02)9958-3762 張先生

答：力頭盡大个人做得參加擲大索比賽，盡會唱山歌个人做得參加歌唱比賽。

30

這張地圖項有四隻（個）縣市，離臺中盡（最）近个係哪隻（個）縣市？盡（最）遠个又係哪隻（個）縣市呢？



答：離臺中最近个係苗栗，最遠个係桃園。

31

下背係阿姨个相片，請你講看啊佢今晡日係仰仔个打扮。



02百

答：帶烏色个目鏡，著白色个衫、紅色个短裙、烏色个鞋。

32

請問各地个天時係仰般形（仔）？



9

答：北部落雨，中部烏陰天，南部出日頭。



33

這張圖裡肚(裡背)，阿姆今年幾多歲？哪日過生日？



答：阿姆今年40歲，在12月初10過生日。

34

你去動物園寮，這下在服務中心拿着地圖，你想愛看臺灣烏熊、象仔還有鳥仔，愛仰仔行較(過)好？



答：先去第一區看臺灣烏熊，再去第二區看象仔，最後去第三區看鳥仔。

35

這張圖係阿明  
昨晡日食个東  
西，請你講看  
啊佢有食恁多  
麼个？




95頁第35題

答：朝晨食牛乳、麵包，當晝食飯、青菜、煎卵同雞腿，暗晡食麵、豆腐、魚仔、拉杞仔同弓蕉。

36

這係若屋下  
人，請你紹介  
一下有哪兜人  
(恁多麼人)？  
盡(最)老个  
兩儕(個)係  
若麼人？



答：佢屋下有阿公、阿婆、阿爸、阿姆同侄，最老个係阿公、阿婆。

37

照這張動物園個圖，請你紹介三種動物，佢兜（等）有麼個特點？



答：長尾猴尾長長，長頸鹿頸根長長，羊仔二支角彎彎長長。

38

這係一張火車票，請你講看啊這車票係對哪位（哪仔）坐到哪位（哪仔）個？車錢幾多？



答：這張火車票係對新竹坐到台南，車錢係五百空六個銀。

39

這張圖裡肚，細  
俵仔分麼个燒  
着咗？佢愛遽  
啊去做麼个？



97頁第39題

答：細俵仔分湯燒着咧，愛遽啊去沖冷水。

40

請看圖講出公  
園肚个人在該  
做哪兜活動？



98頁第40題

答：後生仔在該跳舞，老人家在該行棋仔。

41

請講出這張圖  
項，有幾多種  
銀角仔？總下  
係幾多個銀？



答：有三種銀角仔，五十個銀，十個銀，同伍個銀，總共係六十五個銀。

42

預防天狗熱，  
愛巡看啊哪位  
有囤着水無，  
還過張水个桶  
仔乜愛倒覆。  
請你講看啊還  
有哪兩項事情  
愛做。



答：屋下裡背外背有積水个地方愛清核。家家戶戶有張水个容器愛輒常搓淨來。

43

這係身障車位，假使一般人儘採停，車仔可能會仰仔？愛打幾多號電話去檢舉呢？



答：車仔儘採停會分人吊走，做得打 110 電話檢舉。

44


這隻飯包看起來異（盡）錫人食，請你講看啊，裡背有哪恁多種菜。



答：裡背有滷个豬肉、豆干、卵、雞腿，還有青菜同筍干。

45

阿婆胃痛，厥藥袋仔項有教佢幾時食、愛食幾多粒，請你同阿婆講清楚哦！

早上 <input checked="" type="checkbox"/>	中午 <input checked="" type="checkbox"/>	晚上 <input checked="" type="checkbox"/>	一粒 <input checked="" type="checkbox"/>
			
睡前 <input type="checkbox"/>	飯前 <input checked="" type="checkbox"/>	飯後 <input type="checkbox"/>	半粒 <input type="checkbox"/>
			

用法／用量：

口服，每日三次，飯前使用，每次劑量：1 粒

答：每日食三到，飯前食，一擺食一粒。

46

下背北極熊个相片，分人看着盡毋盼得，請你講看啊厥个樣仔仰仔。



答：餓啊瘦夾夾吔，腳又著傷，看起來蓋清苦个樣仔。

47

這係2017年1月  
個月曆，請你同  
大家講哪日係  
舊曆年三十？  
哪日係年初  
一？還有哪日  
愛轉妹家呢？



答：1月27號係年三十，28號係年初一，29號  
年初二愛轉妹家。

48

來到果菜攤，  
請照相片項个  
東西，你會同  
頭家講愛買哪  
兜果子？



101頁第48題

答：頭家，佢愛買2粒木瓜、1粒黃梨還有一斤  
葡萄。



49

圖肚个人當在  
該做麼个？請  
紹介一下分做  
幾多隊、一隊  
幾多儕人、著  
麼个衫？



101頁第49題

答：分作二隊打籃球，一隊5個人，著紅色同藍色个衫。

50

這運動場項走  
相逐个選手發  
生麼个事情？  
請你講看啊。



102頁第50題

答：3號選手橫倒咧，5號選手牽佢跣起來。

51

這係奧運會个標誌，請你講出佢係麼个形籜（落）起來个？總共有幾（異）多隻（個）？有哪兜色目？



答：係五個圓圈仔籜起來个，有藍色、黃色、烏色、青色同紅色。

52

請講出圖項河壩裡肚污染个情形係仰仔？



答：河壩水變到烏疏疏全垃圾，魚仔、甥仔都死淨淨。

53

請講出這張圖肚(項)个紙票，有哪恁多種錢？各有幾多張？總共係幾多錢？



答：有1千銀3張，1百銀4張，總共3千4百個銀。

54

這係阿伯姆屋下个門牌，請你詳細講出厥住址。



答：臺北市中山區中山北路二段38巷67弄5號之1

## 搭乘手扶梯須知

55

照這張標誌，坐電扶梯個時節愛注意着哪兜事情呢？請你講看啊。



緊握扶手



牽緊孩童

答：坐電扶梯個時節愛注意扳穩扶手，細人仔牽好來。

56

有一隻在貨車頂個河馬，分路項個車仔嚇着跌（橫）下來。請你講看啊，河馬看起來仰仔？



答：河馬看起來著傷咧緊流血，痛到緊噉流目汁。

57

圖項个便利超商，做得買麼个東西？還有恁多麼个服務？



答：做得買糖仔、咖啡、上便所、領錢同食東西。

58

日誌提供當(蓋)多訊息，在這張日誌裡肚，你會同人紹介哪兜呢？



答：2018年12月22號拜六，係冬至，舊曆11月16號。

59

食晝哩！照這菜單，飯、湯、菜這三種至少各點一項，你想食麼个？

**小哥食堂**

<p>【飯類】</p> <p>白飯.....10元</p> <p>滷肉飯.....35元</p> <p>雞肉飯.....40元</p>	<p>【小菜類】</p> <p>滷蛋</p> <p>豆腐干</p> <p>豬頭皮</p> <p>每盤30元</p> <p>★豬腳...50元</p> <p>★雞腿...50元</p> <p>★魚排...50元</p>
<p>【湯類】</p> <p>蛋花湯....30元</p> <p>青菜豆腐湯.35元</p> <p>蘿蔔湯.....40元</p>	



答：佢想愛食雞肉飯、蘿蔔湯同豆腐干。

60

這張圖長透在農民曆項看着，係做毋得共下食个東西，請你詳細紹介分大家知。



答：牛肉同快菜共下食會中毒，番瓜同蝦公共下食會屙痢肚。

61


請講出這兜浴室會用着个東西。



答：浴室裡會用着面帕仔、番鹼、牙搓仔、牙确仔

62

請問佢俚( 佢等 ) 國家个國旗有哪三種色？



106頁第62題

答：有白色、紅色、青色(藍)。